



Finále 2018/19, kategorie EF (8. a 9. třída ZŠ)

Identifikace

Na každý list se zadáním nebo řešením napiš dolů svoje jméno a příjmení. Neoznačené listy nebudou opraveny!

Žák

jméno:

příjmení:

Škola

název:

město:

PSČ:

Hodnocení

A \_\_\_ B \_\_\_ C \_\_\_ D \_\_\_

$\Sigma$  (80 b.) \_\_\_

Účast v AO se řídí organizačním řádem, č.j. MŠMT – 14 896/2012-51. Organizační řád a propozice aktuálního ročníku jsou k dispozici na <http://olympiada.astro.cz>.

A Přehledový test

(max. 20 bodů)

**POKYNY:** U každé otázky zakroužkuj právě jednu správnou odpověď. Pokud se spleteš, původní odpověď zřetelně škrtni a zakroužkuj jinou. Je povolena maximálně jedna oprava. V případě špatné, žádné nebo více zakroužkovaných odpovědí je za otázku 0 bodů. Otázky označené \*\* jsou za 2 body, zbylé za 1 bod.

1. Zákon všeobecné gravitace formuloval

- [a] Mikuláš Koperník.
- [b] Tycho Brahe.
- [c] Johannes Kepler.
- [d] Isaac Newton.

2. Jaké záření zemská atmosféra pohlcuje nejméně?

- [a] rádiové
- [b] viditelné světlo
- [c] ultrafialové
- [d] rentgenové

3. Největší český dalekohled (2m dalekohled v Ondřejově) se jmenuje po

- [a] Jiřím Grygarovi.
- [b] Františku Nušlovi.
- [c] Luboši Perkovi.
- [d] Zdeňku Kopalovi.

4. Podle současných poznatků vznikl vesmír při Velkém třesku před

- [a] 13,7 miliony let.
- [b] 10,3 miliardami let.
- [c] 13,7 miliardami let.
- [d] 17,3 miliardami let.

5. Černá díra v centru naší Galaxie má hmotnost řádově

- [a] tisíce  $M_{\odot}$ .
- [b] statisíce  $M_{\odot}$ .
- [c] miliony  $M_{\odot}$ .
- [d] miliardy  $M_{\odot}$ .

6. Jaký prvek tvoří většinu hmoty hvězd?

- [a] vodík
- [b] helium
- [c] uhlík
- [d] kyslík



## Finále 2018/19, kategorie EF (8. a 9. třída ZŠ)

7. V prosinci roku 2018 prolétala kolem Země kometa viditelná pouhým okem. Jak se jmenovala?

- [a] C/2017 E4 (Lovejoy)
- [b] 46P/Wirtanen
- [c] C/1995 O1 (Hale-Bopp)
- [d] C/2017 U1 (PanSTARRS)

8. První pozorované gravitační vlny na detektoru LIGO (tj. v roce 2015) byly

- [a] ze Slunce.
- [b] z rentgenového zdroje Sgr A\* v centru naší Galaxie.
- [c] ze srážky dvou černých děr.
- [d] z oběhu dvou neutronových hvězd ve dvojhvězdě.

9. \*\* Srážka dvou neutronových hvězd se nazývá

- [a] nova.
- [b] kilonova.
- [c] supernova.
- [d] hypernova.

10. \*\* Radiant meteorického roje Kvadrantid leží v souhvězdí

- [a] Kvadrantu.
- [b] Velké medvědice.
- [c] Pastýře.
- [d] Oktantu.

11. \*\* Perioda, se kterou se opakuje cyklus měsíčních a slunečních zatmění, trvá 18 let a 11 dní. Nazývá se

- [a] Drakonický rok.
- [b] Platónský rok.
- [c] Eros.
- [d] Saros.

12. \*\* Jaký je dnes přibližně poměr mezi normální hmotou / temnou hmotou / temnou energií?

- [a] 33,3 % / 33,3 % / 33,3 %
- [b] 10 % / 25 % / 65 %
- [c] 5 % / 35 % / 60 %
- [d] 5 % / 25 % / 70 %

13. \*\* Jak se jmenuje druhá nejjasnější hvězda noční oblohy?

- [a] Canopus
- [b] Arcturus
- [c] Sirius
- [d] Vega

14. \*\* Kdy odstartovala poslední mise Apollo (Apollo 17)?

- [a] 16. 7. 1969
- [b] 11. 4. 1970
- [c] 7. 12. 1972
- [d] 8. 5. 1977

## B Zatmění Měsíce

(max. 30 bodů)

Při zatmění Měsíce prochází Měsíc stínem Země. Ten je tvořen jednak polostímem (penumbrou) a také plným stínem (umbrou). Astrofotografové vždy pořizují pěkně barevné série fotografií, na kterých Měsíc postupně mizí a pak se zase objevuje. Šikovným poskládáním snímků tohoto astronomického úkazu pak může vzniknout i taková koláž jako na obrázku 1, která pochází ze zatmění dne 21. 1. 2019.

a) O jaký typ zatmění se jednalo?

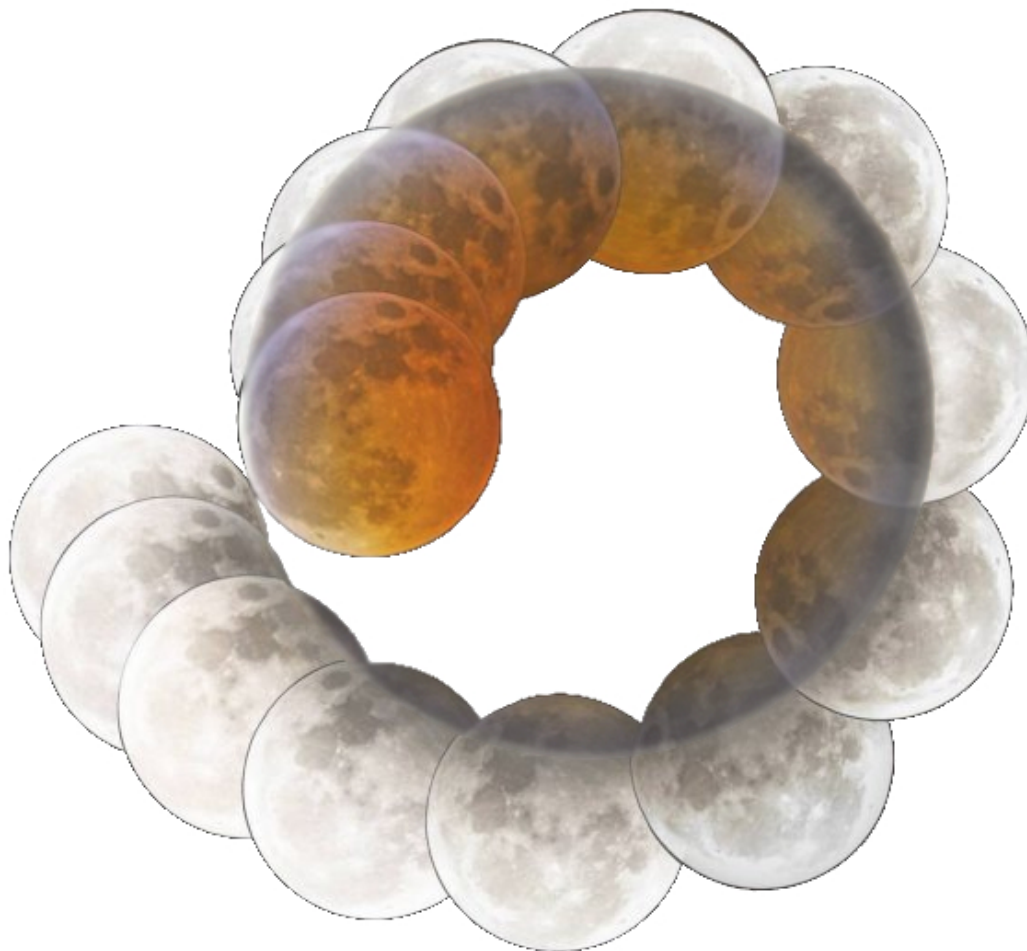


**Finále 2018/19, kategorie EF (8. a 9. třída ZŠ)**

b) Při průchodu penumbrou je Měsíc tmavě šedý. Jakou barvu má Měsíc, když prochází umbrou? Napiš také proč a zkus odpověď co nejlépe vysvětlit, každý podstatný detail se hodnotí.

c) Zatmění Měsíce nastalo 21. 1. 2019. Jak daleko od Slunce byla tou dobou Země? Výsledek označ  $d_{SZ}$  a zaokrouhli na stovky tisíc km. Stačí počítat přibližně, ale zase ne příliš zjednodušeně.

**Finále 2018/19, kategorie EF (8. a 9. třída ZŠ)**



**Obrázek 1:** Série snímků ze zatmění Měsíce 21. 1. 2019 poskládaná do spirály. (foto: George Schmiesing)

**d)** Jak dlouhý je zemský stín (měřeno od středu Země)? Výsledek označ  $s$  a zaokrouhli na tisíce km. Všechna tělesa považuj nyní i v dalších částech této úlohy za kulová s rovníkovým poloměrem.



**Finále 2018/19, kategorie EF (8. a 9. třída ZŠ)**

e) Využij obrázek 1 a zjisti, jak daleko byl Měsíc od Země v době zatmění? Výsledek označ  $d_{ZM}$  a zaokrouhli na tisíce km.

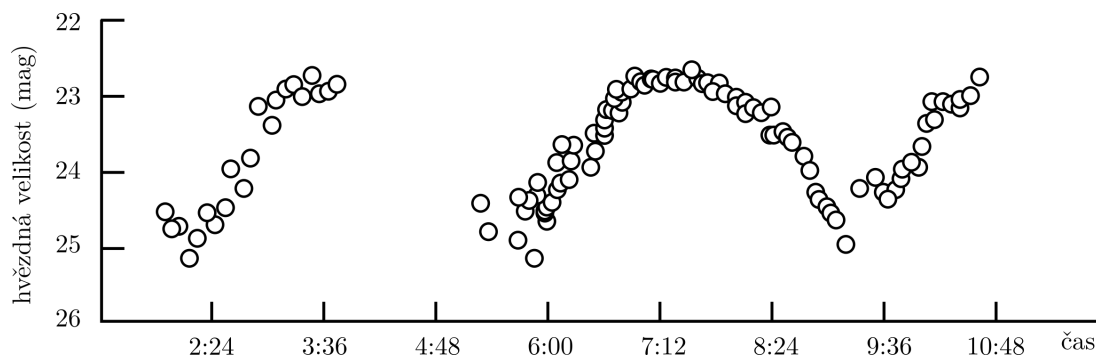
**Finále 2018/19, kategorie EF (8. a 9. třída ZŠ)**

**C ‘Oumuamua**

(max. 10 bodů)

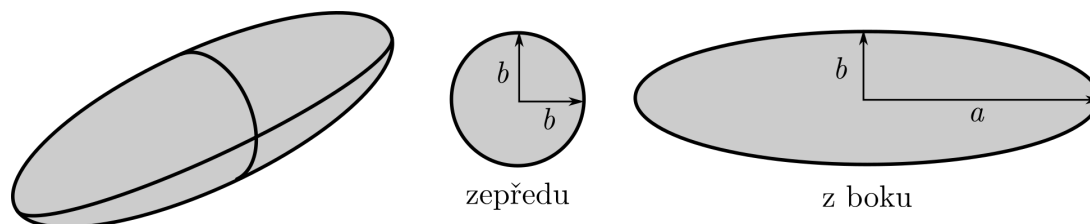
Dne 19. 10. 2017 byl pomocí dalekohledů Pan-STARRS na Havajských ostrovech objeven první mezihvězdný objekt. Jeho název je 1I/‘Oumuamua, což znamená „posel vyslaný z dávné minulosti“.

a) Světelná křivka (tedy závislost změny jasnosti nebo hvězdné velikosti na čase) tohoto objektu ze dne 27. 10. 2017 je na obrázku 2. Jaká byla jeho maximální změna jasnosti v tomto dni? Výsledek označ  $\Delta m$  a uveď ho v magnitudách s přesností na desetiny.



**Obrázek 2:** Světelná křivka 1I/‘Oumuamua ze dne 27. 10. 2017.

b) Předpokládej, že ‘Oumuamua nemá tvar koule, ale připomíná spíše míč na rugby (tedy rotační elipsoid), jak je to znázorněno na obrázku 3. Světelná křivka závisí na tom, jak těleso rotuje a odráží světlo pokaždé jinak. Dále předpokládej, že asteroid rotuje podél poloosy  $b$ . Kdy má maximální a kdy minimální jasnost? Zapiš jako „max = ...“ a „min = ...“, kde místo teček doplň  $ab$  nebo  $bb$  podle toho, jestli je k nám v dané situaci ‘Oumuamua otočen průřezem s poloosami  $a$  a  $b$  nebo  $b$  a  $b$ .



**Obrázek 3:** Předpokládaný tvar ‘Oumuamua – rotační elipsoid. Na obrázku jsou i nejmenší a největší průřezy s označenými hlavními a vedlejšími poloosami ( $a$ ,  $b$ ), respektive průměrem  $b$ .



**Finále 2018/19, kategorie EF (8. a 9. třída ZŠ)**

c) S pomocí předchozích výsledků vypočítej, jaký je poměr poloos  $a : b$  (zapiš ho jako poměr celých čísel). Napovíme, že plocha elipsy s poloosami  $a$  a  $b$  se spočítá jako  $S_{ab} = \pi ab$ .



**Finále 2018/19, kategorie EF (8. a 9. třída ZŠ)**

**D Jupiterovy měsíce**

(max. 20 bodů)

Všechny obří planety mají spousty přirozených satelitů (měsíců). Jako první objevil Galileo Galilei měsíce u Jupiteru (čtyři největší z nich). Nyní je nazýváme galileovské měsíce. Tabulka 1 uvádí základní data o vybraných Jupiterových měsících.

a) Vypočítej, jaký poloměr (v mm) by měl Jupiter v modelu v měřítku 1:10 000 000 000, jestliže jeho skutečný poloměr je 70 000 km.

b) Vypiš jména galileovských měsíců a seřaď je podle rostoucí vzdálenosti od Jupiteru. Správné odpovědi zapiš do prvního sloupce tabulky 2. Pro každý spočítej vzdálenost od Jupiteru a průměr v měřítku 1:10 000 000 000. Hodnoty zapiš do tabulky 2 v mm a správně zaokrouhli.

Název	Hlavní poloosa [km]	Průměr tělesa [km]	Název	Hlavní poloosa [km]	Průměr tělesa [km]
Adrastea	129 000	16	Io	421 800	3643
Amalthea	181 400	168	Leda	11 165 000	18
Callisto	1 882 700	4821	Lysithea	11 717 000	38
Elara	11 741 000	78	Metis	128 000	44
Europa	671 100	3122	Thebe	221 900	98
Ganymedes	1 070 400	5262	Titan	1 121 865	5150
Himalia	11 461 000	160	Triton	354 800	2706

**Tabulka 1:** Parametry Jupiterových měsíců.

Název	Vzdálenost v měřítku [mm] (zaokrouhli na mm)	Průměr v měřítku [mm] (zaokrouhli na setiny mm)

**Tabulka 2:** Galileovské měsíce – k příkladu b).

c) Jsou opravdu všechny měsíce v tabulce 1 Jupiterovy? Pokud ano, napiš „ANO“. Pokud ne, napiš, jaký nebo jaké jsou tam navíc.





**Finále 2018/19, kategorie EF (8. a 9. třída ZŠ)**

d) V měřítku 1:10 000 000 000 narýsuj Jupiter a galileovské měsíce při pohledu na celou soustavu shora. Předpokládej, že se všechny nacházejí v jedné přímce a že jsou jejich oběžné dráhy kruhové. Objekty menší než 1 mm zobraz symbolem +. Ke každému tělesu napiš jeho jméno.

